

Белоскольников А / 8А

00014

ВСЕРОССИЙСКАЯ ОЛИМПИАДА ШКОЛЬНИКОВ  
ПО ОБЭР 2024–2025 уч. г. ШКОЛЬНЫЙ ЭТАП

7–8 классы  
Модуль 1

Тестовые задания 1  
Определите один правильный ответ  
За правильный ответ начисляется 2 балла



1 Изображённый знак в вагоне электропоезда означает  
а) «не прислоняться к дверям»  
б) «не входить в двери»  
в) «не останавливаться у дверей»  
г) «не подходить к дверям»

2 Минимальная безопасная толщина льда для сооружения катка должна составлять не менее  
а) 7 см  
б) 30 см  
в) 9 см  
г) 12 см

3 Отлогая сторона муравейника указывает направление на  
а) восток  
б) запад  
в) север  
г) юг

4 День спасателя Российской Федерации отмечается  
а) 27 декабря  
б) 4 октября  
в) 30 апреля  
г) 1 марта

5 Сухопутные войска — это  
а) вид Вооружённых сил, предназначенных преимущественно для ведения боевых действий на суше;  
б) вид войск, предназначенных для решения стратегических и локальных боевых задач;  
в) род войск, обеспечивающих выполнение боевых задач при ведении военных действий.

6 Верны ли утверждения?  
При выборе СИЗОД (средств индивидуальной защиты органов дыхания) необходимо учитывать  
А. возможный уровень концентрации ОХВ в воздухе  
Б. время защитного действия СИЗОД  
а) верно только А  
б) верно только Б  
в) верны оба суждения  
г) оба суждения неверны

7 Рекомендуемая зона удаления при обнаружении ручной боевой гранаты составляет:  
а) 50 м  
б) 200 м  
в) 250 м  
г) 55 м

8 Какой витамин образуется в коже под действием солнечного излучения?  
а) В6  
б) С  
в) К  
г) D

9 Оказание первой помощи необходимо начинать с  
а) вызова скорой медицинской помощи  
б) определения признаков жизни у пострадавшего  
в) оценки обстановки и обеспечения безопасных условий для её оказания  
г) выяснения обстоятельств травмы

10 Каким повязка используется для остановки кровотечения?  
а) укреплённая  
б) иммобилизирующая  
в) давящая  
г) герметизирующая

Тест 1.

1	2	3	4	5	6	7	8	9	10
+	+	+	-	+	+	-	+	-	+

145  
~~148~~  
~~145~~

## Тестовое задание 2

Определите два правильных ответа

За каждый правильный ответ начисляется 2 балла

1 Какой сигнальный цвет и какую геометрическую форму имеют предупредительные знаки безопасности?

- а) синий
- б) треугольник
- в) квадрат
- г) жёлтый
- д) круг с поперечной полосой

2 Для тушения небольшого бытового возгорания можно воспользоваться

- а) мукой
- б) содой
- в) плотной шерстяной тканью
- г) какао-порошком
- д) плотной синтетической тканью

3 Какие растения являются ядовитыми?

- а) ландыш
- б) актинидия острая
- в) анис
- г) бенниказа шестинисто-волосистая
- д) болиголов крапчатый

4 К опасным гидрологическим явлениям и процессам относятся

- а) селя
- б) оползень
- в) лава
- г) землетрясение
- д) цунами

5 К характеристикам, по которым оценивается землетрясение, относят

- а) магнитуду
- б) продолжительность
- в) интенсивность
- г) распространённость
- д) частоту

6 К средствам индивидуальной защиты органов дыхания относятся

- а) защитное дерматологическое средство
- б) камера защитная детского
- в) изолирующий противогаз
- г) фильтрующий противогаз
- д) противошумные наушники

7 Какие воинские звания соответствуют Военно-морскому флоту?

- а) «Капитан 3 ранга»
- б) «Майор»
- в) «Капитан-лейтенант»
- г) «генерал-лейтенант»
- д) «полковник»

8 Какие состояния характеризуют малоподвижный образ жизни?

- а) гиперактивность
- б) гипотрофия
- в) гипокинезия
- г) гиперкинезия
- д) гиподинамия

9 Укажите номера для вызова скорой медицинской помощи с сотового телефона

- а) 03
- б) 102
- в) 112
- г) 103
- д) 04

10 Какие признаки характерны для ожога второй степени?

- а) отёк, покраснение
- б) наличие пузырей с прозрачным содержимым
- в) отсутствие чувствительности в месте повреждения
- г) обугливание кожи и подкожной клетчатки
- д) обугливание мягких тканей и частично костей

Тест 2.

1	2	3	4	5	6	7	8	9	10
812	812	812	812	812	812	812	812	812	812

Максимум за тестовые задания — 60 баллов.

45 28 28 28 45

25









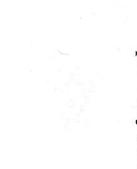

208

Модуль 2

Теоретические задания

Задание 1

Установите соответствие между изображением дорожного знака и его наименованием, соединив их стрелками.

	1	«Стаянка велосипедов запрещена»
	2	«Стоянка запрещена»
	3	«Велосипедная дорожка или полоса»
	4	«Движение на велосипедах запрещено»
	5	«Движение запрещено»
	6	«Конец велосипедной дорожки или полосы»
	7	«Въезд запрещён»
	8	«Место отдыха»
	9	«Кемпинг»
	10	«Остановка запрещена»








Максимальная оценка за правильно выполненное задание – 10 баллов, при этом:

- за каждое правильно установленное соответствие начисляется 2 балла;
- при отсутствии правильных ответов баллы не начисляются

105

Задание 2

Каждый визуальный сигнал «поверхность – воздух», применяемый при поисково-спасательных операциях, имеет определённое значение. Установите соответствие между изображением сигнала и его значением, соединив их стрелками.

	1	«Нужны пища и вода»
	2	«Всё в порядке»
	3	«Нужны сигнальная лампа с батареей и радиостанция»
	4	«Укажите направление следования»
	5	«Да, или пожалуйста»
	6	«Требуется карта и компас»
	7	«Здесь можно безопасно совершить посадку»

Максимальная оценка за правильно выполненное задание – 10 баллов, при этом:

- за каждое правильно установленное соответствие начисляется 2 балла;
- при отсутствии правильных ответов баллы не начисляются

105

Задание 3

В целях своевременного информирования населения о возникновении угрозы террористического акта и организации деятельности по противодействию его совершению на отдельных территориях РФ могут устанавливаться уровни террористической опасности.

А. Выберите цветное обозначение уровней террористической опасности и расположите их в порядке возрастания (от минимального к максимальному).

- А. «фиолетовый»
- Б. «красный»
- В. «жёлтый»
- Г. «зелёный»
- Д. «оранжевый»
- Е. «синий»

В ответ запишите последовательность букв, соответствующих уровням террористической опасности (от минимального к максимальному) без пробелов и других разделителей.

Образец записи ответа: ДГВЕ

Ответ: ВДГЕБА

Б. Установите соответствие между выбранными цветовыми обозначениями уровней террористической опасности и условиями их установления, соединив варианты стрелками.

«фиолетовый»	Повышенный – при наличии тревожащей подлтверждения информации о реальной возможности совершения террористического акта	3
«красный»	Высокий – при наличии подлтвержденной информации о реальной возможности совершения террористического акта	2
«жёлтый»	Критический – при наличии информации о совершении террористического акта либо непосредственной угрозе террористического акта	1
«зелёный»		
«оранжевый»		
«синий»		

Максимальная оценка за правильно выполненное задание – 10 баллов, при этом:

Пункт А:

- за полное правильное перечисление всех цветных обозначений в порядке возрастания начисляется 4 балла;
- если участником нарушена последовательность или указано более трёх букв, то за данную позицию выставляется 0 баллов.

Пункт Б:

- за каждое правильно установленное соответствие начисляется 2 балла;
- при отсутствии правильных ответов баллы не начисляются.

Задание 4

А. Перелом – нарушение целостности кости. Признаки перелома делятся на две группы: достоверные и косвенные.

Вариант 1. Выберите и запишите достоверные признаки перелома.

Вариант 2. Выберите и запишите косвенные признаки перелома.

Признаки перелома

1. Деформация в месте повреждения 1
  2. Костный хруст 1
  3. Отек в месте повреждения 1
  4. Укорочение (удлинение) пострадавшей части конечности 1
  5. Кровоизлияние в месте повреждения 1
  6. Нарушение функции конечности 1
  7. Боль в месте повреждения 1
  8. Патологическая подвижность 1
- (Образец записи ответа: Вариант 1: 1, 2, 3, 4; Вариант 2: 5, 6, 7, 8)

Вариант 1

Вариант 2

Б. При переломе(-ах) какой(-их) кости(-ей) выполняется иммобилизация, изображённая на рисунке?

- а) шея
- б) рёбер
- в) плечевой кости
- г)  костей кисти

Ответ

Максимум за теоретические задания – 40 баллов.

00014

Белековичев Дртеле

ВСЕРОССИЙСКАЯ ОЛИМПИАДА ШКОЛЬНИКОВ  
ОБЗР. 2023-2024 уч. г.  
ШКОЛЬНЫЙ ЭТАП. 7-8 КЛАССЫ

Практический тур

Маршрутная карта практического тура

Проверка умения применять полученные знания в области безопасности на практике осуществляется в ходе выполнения практических заданий по выживанию в условиях природной среды, оказанию первой помощи пострадавшим и действиям в чрезвычайных ситуациях природного и техногенного характера.

Очерёдность выполнения заданий может быть изменена в соответствии с условиями местности (особенностями помещений).  
Контрольное время установлено на каждом этапе.

При достижении участником предельного количества штрафных баллов до завершения выполнения задания действия участника прекращаются.

Общая оценка результата выполнения участником заданий практического тура определяется арифметической суммой всех баллов, полученных за выполнение всех заданий, которая не должна превышать 75 баллов. Оценка за каждое задание не может быть отрицательной, минимальная оценка 0 баллов.

ЗАДАНИЕ 1. Вязка узлов

Оборудование этапа: стол, шведская стенка (опора), карабины альпинистские – 2 шт., карточки с заданиями, верёвка Ø 10-11 мм, длина 1-2 м – 4 шт., верёвка (репшнур) Ø 6 мм, длина 0,5-1 м – 4 шт.

Условия: на площадке выполнения задания находится стол, на котором лежат карточки с заданиями (Приложение 1). Участнику необходимо завязать 2 узла в соответствии с заданием. Задания определяются по жребью.

Алгоритм выполнения задания

1. Участник выбирает поочередно две карточки с заданиями, переворачивает и приступает к выполнению.
2. Верёвки с завязанными узлами участник кладёт на стол или демонстрирует на опоре для проверки членами жюри.

Контрольное время: левушки – 2 мин., юноши – 2 мин.

Список узлов

Связывание верёвок одинакового диаметра: встречный, встречная восьмёрка, грейпвайн.

Закрепление верёвки к опоре: штык, карабинная удавка, булинк.

Закрепление верёвки к карабину: двойной проводник, проводник восьмёрка, австрийский проводник.

Оценка задания

Максимальная оценка за правильно выполненное задание – 25 баллов.

№ п/п	Ошибки	Штраф (баллы)
1.	Не завязан или неправильно завязан контрольный узел	5
2.	Перекручены пряди в узле	5
3.	Узел не затянут	5
4.	Узел развязался или изменил рисунок	10
5.	Завязанный узел, не соответствует заданию	10
6.	Задание не выполнялось	25
Сумма штрафных баллов		
Оценка задания с учетом штрафных баллов		Подпись судьи
25 - <u>25</u> =		

ЗАДАНИЕ 2 Надевание средств защиты личности на пострадавшего при эвакуации его из зоны пожара (задымления)

Перед участником расположен манекен (пострадавший) и фильтрующий самоспасатель.

Участник по команде члена жюри надевает фильтрующий самоспасатель на манекен (пострадавшего).

Время: левушки – 1 мин 30 сек., юноши – 1 мин 10 сек.

Оценка задания. Максимальная оценка за правильно выполненное задание – 15 баллов.

№ п/п	Ошибки	Штраф (баллы)
1.	Самоспасатель не одет.	15
Сумма штрафных баллов		
Оценка задания с учетом штрафных баллов		Подпись судьи
15 -	15	=

### ЗАДАНИЕ 3. Надевание обноруживающего защитного комплекта (ОЗК) на незаражённой местности.

**Оборудование этапа:** противогазы ПП-5 (ПП-7) (у каждого участника), обноруживающие защитные комплекты (ОЗК) разных размеров.

**Условия:** По команде члена жюри участник за отведённое время должен надеть ОЗК и гражданский противогаз (ПП-5 или ПП-7).

**Алгоритм выполнения задания:**

По команде члена жюри «Платье в рукава, чулки, перчатки – НАДЕТЬ, ГАЗЫ» участник приступает к надеванию ОЗК:

– вынимаем защитные чулки и перчатки из чехла и разворачиваем их;  
 – надеваем защитные чулки поверх обуви, застёгиваем все хлястики, подвязываем тесьмки к поясному ремню;

– надеваем противогаз;

– надеваем защитные перчатки;

– надеваем защитный плащ в рукава;

– надеваем перчатки на низах рукавов на большие пальцы поверх перчаток;

– надеваем камушон на голову и застёгиваем борта защитного плаща

**Контрольное время:** девушки – 4 мин. 10 сек., юноши – 4 мин. Оценка

задания. Максимальная оценка за правильное выполнение задание – 25 баллов.

№ п/п	Ошибки	Штраф (баллы)
1.	Не надет камушон	5
2.	Перчатки не заправлены в рукава (за каждую ошибку)	3
3.	Перекос шлем-маски противогаса	5
4.	Не застёгнуты шпены на плаще и чулках (за каждую ошибку)	3
5.	Неправильно застёгнуты борта плаща	10
6.	Не подвязаны тесьмки	5
7.	Нарушена последовательность надевания ОЗК	15
8.	Задание не выполнялось	25
Сумма штрафных баллов		
Оценка задания с учетом штрафных баллов		Подпись судьи

25 - 10 =

### ЗАДАНИЕ 4. Действия по сигналу регулировщика при следовании на велосипеде

**Оборудование этапа:** лента разметочная белого цвета для оборудования перекрёстка, карточки с изображениями сигналов регулировщика (приложение 2).

**Условия:** перед участником имитация перекрёстка, регулировщик (хронометрист или помощник), карточки с сигналами регулировщика. Участнику необходимо в соответствии с заданием осуществить движение через перекрёсток.

**Алгоритм выполнения задания**

1. Участник по команде члена жюри поочерёдно выбирает две карточки с сигналами регулировщика.

2. Регулировщик (помощник) показывает сигналы.

3. Обучающийся, имитируя движение на велосипеде, действует согласно сигналам регулировщика.

**Контрольное время:** девушки – 1 мин., юноши – 1 мин.

Оценка задания. Максимальная оценка за правильно выполненное задание – 10 баллов.

№ п/п	Ошибки	Штраф (баллы)
1.	Действия не соответствуют сигналу (за каждую ошибку)	5
2.	Задание не выполнялось	10
Сумма штрафных баллов		
Оценка задания с учетом штрафных баллов		Подпись судьи
10 -	10	=

Максимальная оценка за практический тур – 75 баллов

Общий результат: 50

Ленга М / 8Б

00007

ВСЕРОССИЙСКАЯ ОЛИМПИАДА ШКОЛЬНИКОВ  
ПО ОБЭР 2024-2025 уч. г. ШКОЛЬНЫЙ ЭТАП

7-8 классы  
Модуль 1

Тестовые задания 1  
Определите один правильный ответ  
За правильный ответ начисляется 2 балла

1 Изображённый знак в вагоне электропоезда означает

- а) «не прислоняться к дверям»
- б) «не входить в двери»
- в) «не останавливаться у дверей»
- г) «не подходить к дверям»



2 Минимальная безопасная толщина льда для сооружения катка должна составлять не менее

- а) 7 см
- б) 30 см
- в) 9 см
- г) 12 см

3 Отногая сторона муравейника указывает направление на

- а) восток
- б) запад
- в) север
- г) юг

4 День спасателя Российской Федерации отмечается

- а) 27 декабря
- б) 4 октября
- в) 30 апреля
- г) 1 марта

5 Сухопутные войска – это

- а) вид Вооруженных сил, предназначенных преимущественно для ведения боевых действий на суше;
- б) вид войск, предназначенных для решения стратегических и локальных боевых задач;
- в) род войск, обеспечивающих выполнение боевых задач при ведении военных действий.

6 Верны ли утверждения?  
При выборе СИЗОД (средств индивидуальной защиты органов дыхания) необходимо учитывать

- А. возможный уровень концентрации ОХВ в воздухе
- Б. время защитного действия СИЗОД
- а) верно только А
- б) верно только Б
- в) верны оба суждения
- г) оба суждения неверны

7 Рекомендуемая зона удаления при обнаружении ручной боевой гранаты составляет:

- а) 50 м
- б) 200 м
- в) 250 м
- г) 55 м

8 Какой витамин образуется в коже под действием солнечного излучения?

- а) В6
- б) С
- в) К
- г) D

9 Оказание первой помощи необходимо начинать с

- а) вызова скорой медицинской помощи
- б) определения признаков жизни у пострадавшего
- в) оценки обстановки и обеспечения безопасных условий для её оказания
- г) выяснения обстоятельств травмы

10 Какая повязка используется для остановки кровотечения?

- а) укреплённая
- б) иммобилизирующая
- в) давящая
- г) герметизирующая

Тест 1.

1	2	3	4	5	6	7	8	9	10
0	8	8	5	2	8	2	2	8	8

105



## Тестовое задание 2

Определите два правильных ответа

За каждый правильный ответ начисляется 2 балла

1 Какой сигнальный цвет и какую геометрическую форму имеют предупредительные знаки безопасности?

- а) синий
- б) треугольник
- в) квадрат
- г) жёлтый
- д) круг с поперечной полосой

2 Для тушения небольшого бытового возгорания можно воспользоваться

- а) мукой
- б) содой
- в) плотной шерстяной тканью
- г) какао-порошком
- д) плотной синтетической тканью

3 Какие растения являются ядовитыми?

- а) ландыш
- б) актинидия острая
- в) анис
- г) бенниказа шетинисто-волосистая
- д) болиголов крапчатый

4 К опасным гидрологическим явлениям и процессам относятся

- а) сель
- б) оползень
- в) дава
- г) землетрясение
- д) цунами

5 К характеристикам, по которым оценивается землетрясение, относят

- а) магнитуду
- б) продолжительность
- в) интенсивность
- г) распространённость
- д) частоту

6 К средствам индивидуальной защиты органов дыхания относятся

- а) защитное дерматологическое средство
- б) камера защитная детская
- в) изолирующий противогаз
- г) фильтрующий противогаз
- д) противовоздушные наушники

7 Какие воинские звания соответствуют Военно-морскому флоту?

- а) «Капитан 3 ранга»
- б) «Майор»
- в) «Капитан-лейтенант»
- г) «генерал-лейтенант»
- д) «полковник»

8 Какие состояния характеризуют малоподвижный образ жизни?

- а) гиперактивность
- б) гипотрофия
- в) гипокинезия
- г) гиперкинезия
- д) гиподинамия

9 Укажите номера для вызова скорой медицинской помощи с сотового телефона

- а) 03
- б) 102
- в) 112
- г) 103
- д) 04

10 Какие признаки характерны для ожога второй степени?

- а) отёк, покраснение
- б) наличие пузырей с прозрачным содержимым
- в) отсутствие чувствительности в месте повреждения
- г) обугливание кожи и подкожной клетчатки
- д) обугливание мягких тканей и частично костей

Тест 2.

1	2	3	4	5	6	7	8	9	10
52	0	25	9	8	2	25,8	5	22	20
+	2	+	0+	-	-	-	-	+	+

Максимум за тестовые задания – 60 баллов.











12 2 - 2 4

Модуль 2

Теоретически задание

Задание 1

Установите соответствие между изображением дорожного знака и его наименованием, соединив их стрелками.

	«Стоянка велосипедов запрещена»
	«Стоянка запрещена»
	«Велосипедная дорожка или полоса»
	«Движение на велосипедах запрещено»
	«Движение запрещено»
	«Конец велосипедной дорожки или полосы»
	«Выезд запрещён»
	«Место отдыха»
	«Кемпинг»
	«Остановка запрещена»








Максимальная оценка за правильно выполненное задание – 10 баллов, при этом:

- за каждое правильно установленное соответствие начисляется 2 балла;
- при отсутствии правильных ответов баллы не начисляются

Задание 2

Каждый визуальный сигнал «поверхность – воздух», применяемый при поисково-спасательных операциях, имеет определённое значение.

Установите соответствие между изображением сигнала и его значением, соединив их стрелками.

	«Нужны пища и вода»
	«Всё в порядке»
	«Нужны сигнальная лампа с батареей и радиостанция»
	«Укажите направление следования»
	«Да, или пожалуйста»
	«Требуется карта и компас»
	«Здесь можно безопасно совершить посадку»

Максимальная оценка за правильно выполненное задание – 10 баллов, при этом:

- за каждое правильно установленное соответствие начисляется 2 балла;
- при отсутствии правильных ответов баллы не начисляются

### Задание 3

В целях своевременного информирования населения о возникновении угрозы террористического акта и организации деятельности по противодействию его совершению на отдельных территориях РФ могут устанавливаться уровни террористической опасности.

- А. Выберите цветовой обозначение уровня террористической опасности и расположите их в порядке возрастания (от минимального к максимальному).
- А. «фиолетовый»
  - Б. «красный»
  - В. «жёлтый»
  - Г. «зелёный»
  - Д. «оранжевый»
  - Е. «синий»

В ответ запишите последовательность букв, соответствующих уровням террористической опасности (от минимального к максимальному) без пробелов и других разделителей.

Образец записи ответа: ДПВЕ

Ответ: ГВАРБАЕ

Б. Установите соответствие между выбранными цветовыми обозначениями уровней террористической опасности и условиями их установления, соединив варианты стрелками.

«фиолетовый»	Повышенный – при наличии требующей подтверждения информации о реальной возможности совершения террористического акта
«красный»	Высокий – при наличии подтверждённой информации о реальной возможности совершения террористического акта
«жёлтый»	
«зелёный»	Критический – при наличии информации о совершённом террористическом акте либо о совершении действий, создающих непосредственную угрозу террористического акта
«оранжевый»	
«синий»	

Максимальная оценка за правильно выполненное задание – 10 баллов, при этом:

#### Пункт А:

- за полное правильное перечисление всех цветовых обозначений в порядке возрастания начисляется 4 балла;
- если участником нарушена последовательность или указано более трёх букв, то за данную позицию выставляется 0 баллов.

#### Пункт Б:

- за каждое правильно установленное соответствие начисляется 2 балла;
- при отсутствии правильных ответов баллы не начисляются.

Задание 4

А. Перелом – нарушение целостности кости. Признаки перелома делятся на две группы: достоверные и косвенные.

Вариант 1. Выберите и запишите достоверные признаки перелома.

Вариант 2. Выберите и запишите косвенные признаки перелома.

**Признаки перелома**

1. Деформация в месте повреждения
2. Костный хруст
3. Отёк в месте повреждения
4. Укорочение (удлинение) пострадавшей части конечности
5. Кровотечение в месте повреждения
6. Нарушение функции конечности
7. Боль в месте повреждения
8. Патологическая подвижность

(Образец записи ответа: Вариант 1: 1, 2, 3, 4; Вариант 2: 5, 6, 7, 8)


Вариант 1 1, 4, 5, 8

Вариант 2 2, 3, 6, 7

Б. При переломе(-ях) какой(-их) кости(-ей) выполняется иммобилизация, изображённая на рисунке?

- а) шея
- б) рёбер
- в) плечевой кости
- г) костей кисти

Ответ г



Максимум за теоретические задания – 40 баллов.

00007

Менестре

ВСЕРОССИЙСКАЯ ОЛИМПИАДА ШКОЛЬНИКОВ  
ОБЗР. 2023-2024 уч. г.  
ШКОЛЬНЫЙ ЭТАП. 7-8 КЛАССЫ

Практический тур

Маршрутная карта практического тура

Проверка умения применять полученные знания в области безопасности на практике осуществляется в ходе выполнения практических заданий по выживанию в условиях природной среды, оказанию первой помощи пострадавшим и действиям в чрезвычайных ситуациях природного и техногенного характера.

Очерёдность выполнения заданий может быть изменена в соответствии с условиями местности (особенностями помещений).  
Контрольное время установлено на каждом этапе.

При достижении участником предельного количества штрафных баллов до завершения выполнения задания действия участника прекращаются.

Общая оценка результата выполнения участником заданий практического тура определяется арифметической суммой всех баллов, полученных за выполнение всех заданий, которая не должна превышать **75 баллов**. Оценка за каждое задание не может быть отрицательной, минимальная оценка **0 баллов**.

ЗАДАНИЕ 1. Вязка узлов

Оборудование этапа: стол, шведская стенка (опора), карабины альпинистские – 2 шт., карточки с заданиями, верёвка Ø 10–11 мм, длина 1–2 м – 4 шт., верёвка (решпнур) Ø 6 мм, длина 0,5–1 м – 4 шт.

Условия: на площадке выполнения задания находится стол, на котором лежат карточки с заданиями (Приложение 1). Участнику необходимо завязать 2 узла в соответствии с заданием. Задания определяются по жребью.

Алгоритм выполнения задания

1. Участник выбирает поочерёдно две карточки с заданиями, переворачивает и приступает к выполнению.

2. Верёвки с завязанными узлами участник кладёт на стол или демонстрирует на опоре для проверки членами жюри.

Контрольное время: девушки – 2 мин., юноши – 2 мин.

Список узлов

Связывание верёвок одинакового диаметра: встречный, встречная восьмёрка, рейпвайн.

Закрепление верёвки к опоре: штык, карабинная удавка, булинь.

Закрепление верёвки к карабину: двойной проводник, проводник восьмёрка, австрийский проводник.

Оценка задания

Максимальная оценка за правильно выполненное задание – 25 баллов.

№ п/п	Ошибки	Штраф (баллы)
1.	Не завязан или неправильно завязан контрольный узел	5
2.	Перекручены пряди в узле	5
3.	Узел не затянут	5
4.	Узел развязался или изменил рисунок	10
5.	Завязанный узел, не соответствует заданию	10
6.	Задание не выполнялось	25
Сумма штрафных баллов		
Оценка задания с учетом штрафных баллов		Подпись судьи
25 - <u>28</u> =		

ЗАДАНИЕ 2 Надевание средств защиты на пострадавшего при эвакуации его из зоны пожара (задымления)

Перед участником расположен манекен (пострадавший) и фильтрующий самоспасатель.

Участник по команде члена жюри надевает фильтрующий самоспасатель на манекен (пострадавшего).

время: девушки – 1 мин 30 сек., юноши – 1 мин 10 сек.

Оценка задания. Максимальная оценка за правильно выполненное задание – 15 баллов.

№ п/п	Ошибки	Штраф (баллы)
1.	Самоспасатель не одет.	15
Сумма штрафных баллов		
Оценка задания с учетом штрафных баллов		Подпись судьи
15 - <u>15</u> =		

### ЗАДАНИЕ 3. Надевание общеюскового защитного комплекта (ОЗК) на незагрязнённой местности.

**Оборудование этапа:** противогазы ПП-5 (ПП-7) (у каждого участника), общеюсковые защитные комплекты (ОЗК) разных размеров.

**Условия:** По команде члена жюри участник за отведённое время должен надеть ОЗК и гражданский противогаз (ПП-5 или ПП-7).

#### Алгоритм выполнения задания:

По команде члена жюри «**Плаш в рукава, чулки, перчатки – НАДЕТЬ, ГАЗЫ**» участник приступает к надеванию ОЗК:

- вынимает защитные чулки и перчатки из чехла и разворачивает их;
- надевает защитные чулки поверх обуви, застёгивает все хлястики, подвязывает тесёмки к поясному ремню;
- надевает противогаз;
- надевает защитные перчатки;
- надевает защитный плащ в рукава;
- надевает перчатки на низах рукавов на большие пальцы поверх перчаток;
- надевает камушон на голову и застёгивает борта защитного плаща

**Контрольное время:** девушки – 4 мин. 10 сек., юноши – 4 мин. Оценка задания. Максимальная оценка за правильно выполненное задание – 25 баллов.

№ п/п	Ошибки	Штраф (баллы)
1.	Не надет камушон	5
2.	Перчатки не заправлены в рукава (за каждую ошибку)	3
3.	Перекос шлем-маски противогаса	5
4.	Не застёгнуты шпелки на плаще и чулках (за каждую ошибку)	3
5.	Неправильно застёгнуты борта плаща	10
6.	Не подвязаны тесёмки	5
7.	Нарушена последовательность надевания ОЗК	15
8.	Задание не выполнилось	25
Сумма штрафных баллов		
Оценка задания с учетом штрафных баллов		Подпись судьи

25 - 10 = \_\_\_\_\_

### ЗАДАНИЕ 4. Действия по сигналу регулятора при следовании на велосипеде

**Оборудование этапа:** лента разметочная белого цвета для оборудования перекрёстка, карточки с изображениями сигналов регулятора (приложение 2).

**Условия:** перед участником имитация перекрёстка, регулятор (хронометрист или помощник), карточки с сигналами регулятора. Участнику необходимо в соответствии с заданием осуществить движение через перекрёсток.

#### Алгоритм выполнения задания

1. Участник по команде члена жюри поочередно выбирает две карточки с сигналами регулятора.
2. Регулятор (помощник) показывает сигналы.
3. Обучающийся, имитируя движение на велосипеде, действует согласно сигналам регулятора.

**Контрольное время:** девушки – 1 мин., юноши – 1 мин. Оценка задания. Максимальная оценка за правильно выполненное задание – 10 баллов.

№ п/п	Ошибки	Штраф (баллы)
1.	Действия не соответствуют сигналу (за каждую ошибку)	5
2.	Задание не выполнилось	10
Сумма штрафных баллов		
Оценка задания с учетом штрафных баллов		Подпись судьи
10 - <u>10</u> =		

Максимальная оценка за практический тур – 75 баллов

Общий результат: 50